

Рентгеновское излучение

Рентгеновские лучи (первоначально названные X-лучами) были открыты в 1895 г. немецким физиком Рентгеном. Открыв X-лучи, Рентген тщательными опытами выяснил условия их образования. Он установил, что эти лучи возникают при торможении на веществе быстро летящих электронов. Исходя из этого обстоятельства, Рентген сконструировал и построил специальную трубку, удобную для получения рентгеновских лучей (см. рис. 1).




Рис. 1. Рентгеновская трубка

Рентгеновские трубки представляют собой стеклянные вакуумные баллоны с расположенными внутри электродами. Разность потенциалов на электродах нужна очень высокая — до сотен киловольт. На вольфрамовом катоде, подогреваемом током, происходит термоэлектронная эмиссия, то есть с него испускаются электроны, которые, ускоряясь электрическим полем, «бомбардируют» анод. В результате взаимодействия быстрых электронов с атомами анода рождаются фотоны рентгеновского диапазона.

Было установлено, что чем меньше длина волны рентгеновского излучения, тем больше проникающая способность лучей. Рентген назвал лучи с высокой проникающей способностью (слабо поглощающиеся веществом) жёсткими.

Различают тормозное и характеристическое рентгеновское излучение. Электроны могут, встречаясь с анодом, тормозиться, то есть терять энергию в электрических полях его атомов. Эта энергия излучается в виде рентгеновских фотонов. Такое излучение называется тормозным. Тормозное излучение содержит фотоны разных частот и, соответственно, длин волн. Поэтому спектр его является сплошным (непрерывным). Энергия излучаемого фотона не может превышать кинетическую энергию порождающего его электрона. Кинетическая же энергия электронов зависит от приложенной к электродам разности потенциалов.

Механизм получения характеристического излучения следующий. Быстрый электрон может проникнуть внутрь атома и выбить какой-либо электрон с одной из нижних орбиталей, то есть передать ему энергию, достаточную для преодоления потенциального барьера. Образовавшаяся в результате выбивания вакансии заполняется электроном с одного из вышележащих уровней. Занимая более низкий уровень, электрон излучает излишек энергии в форме кванта характеристического рентгеновского излучения. Наиболее быстрые электроны могут выбить электрон с K-оболочки, менее быстрые — с L-оболочки и т. д. (рис. 2а).

Электронная структура атома — это дискретный набор возможных энергетических состояний электронов. Поэтому рентгеновские фотоны, излучаемые в процессе замещения электронных вакансий, также могут иметь только строго определённые значения энергии, соответствующие разности уровней. Вследствие этого характеристическое рентгеновское излучение обладает спектром не сплошного, а линейчатого вида. Такой спектр позволяет характеризовать вещество анода — отсюда и название этих лучей. На рис. 2б показан характеристический спектр на фоне тормозного спектра.

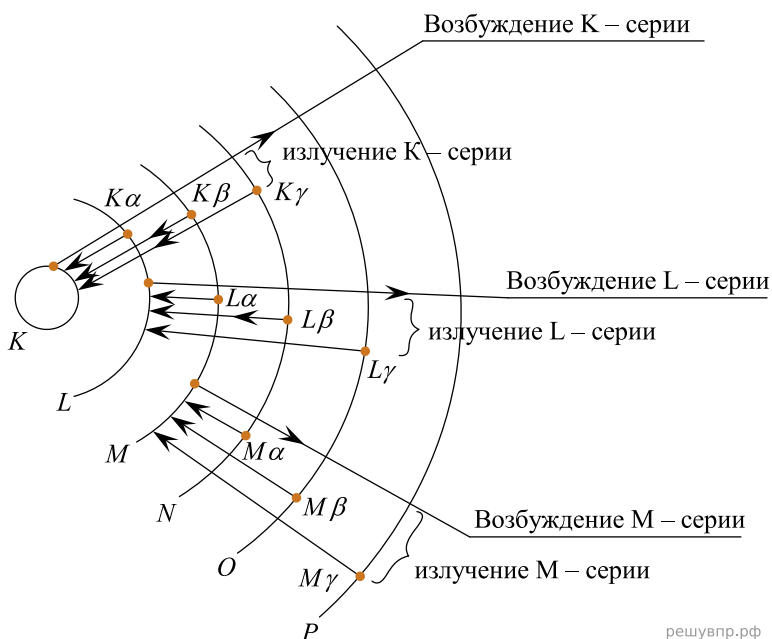


Рис. 2а. Схема образования линий характеристического спектра

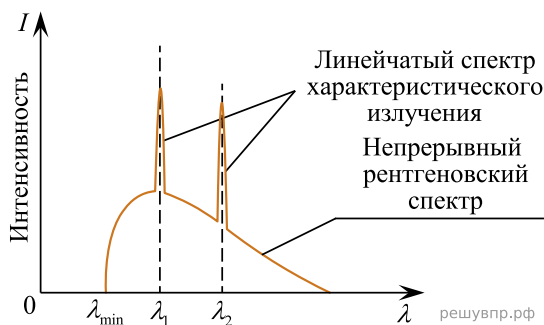


Рис. 2б. Рентгеновский спектр (тормозной и характеристический)

1. Вставьте в предложение пропущенные слова (сочетания слов), используя информацию из текста.

Чем меньше _____ рентгеновского излучения, тем больше проникающая способность лучей. Рентгеновские лучи, которые слабо поглощаются при прохождении вещества, называются _____.

В ответ запишите слова (сочетания слов) по порядку, без дополнительных символов.

Исследование поглощения инфракрасных лучей в XIX веке (по Дж. Тиндалю)

Открытие термо-ЭДС, возникающей при нагреве контакта двух разнородных металлов (термопары), сделало возможным исследование свойств инфракрасных лучей. Термоэлектрический датчик (последовательно соединённые термопары) при нагревании инфракрасными лучами вырабатывает ЭДС, измеряемую гальванометром. По отклонению стрелки судят о степени нагрева.

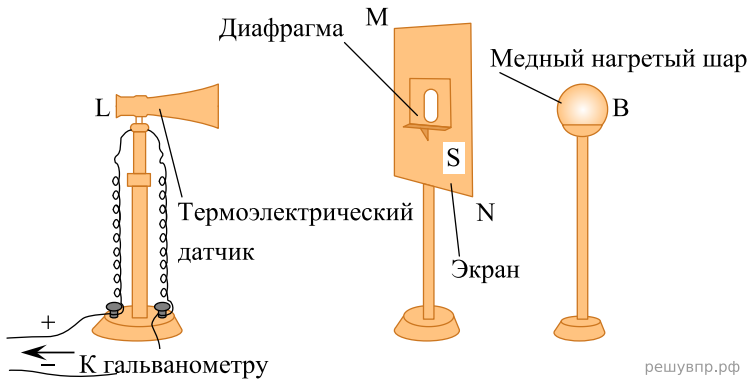


Рис. 1. Исследование прозрачности твёрдых тел

На рис. 1 показана схема исследования прозрачности твёрдых тел в XIX в. для инфракрасных лучей. Предполагалось, что воздух для этих лучей прозрачен. В качестве источника инфракрасных лучей использовались нагретое тело, пламя лампы и т. п. Известно, что, по закону Вина, с понижением температуры тела максимум излучения смещается в сторону длинных волн:

$$\lambda_{max} = \frac{b}{T},$$

где $b = 2897 \text{ мкм} \cdot \text{К}$, T — температура тела в кельвинах.

В опыте исследуемая пластина толщиной l перекрывала отверстие диафрагмы.

Таблица. Пропускание лучей твёрдыми телами

Температура	Нагретая медь		
	920 °С	400 °С	100 °С
Исследуемый материал, $l = 2.54 \text{ мм}$	%		
Каменная соль	92,3		
Стекло	39	6	0
Горный хрусталь	38	6	3
Лёд	6	0	0
Воздух	100		

Оказалось, что прозрачные для видимого света лёд и стекло непрозрачны для тепловых лучей (см. таблицу). Горный хрусталь пропускает 6% излучения нагретой до 400 °С меди и 3% излучения нагретой до 100 °С меди. Таким образом, прозрачность хрустала зависит от температуры излучающего тела. Длинноволновое излучение не проходит через стекло и лёд, а каменная соль для этого излучения прозрачна. По этой причине при изучении прозрачности газов кристаллы каменной соли использовались в качестве «окон» в цилиндре с исследуемым газом (рис. 2, торцы цилиндра AB). Поглощающая способность газа зависит от давления. В опыте в предварительно откачанный цилиндр AB (см. рис. 2) будем впускать этилен через кран G' . Уберём экран T , закрывающий зачернённый сажой куб C , наполненный кипящей водой. Результаты опытов по изучению поглощающей способности этилена и диэтилового эфира приведены на рис. 3.

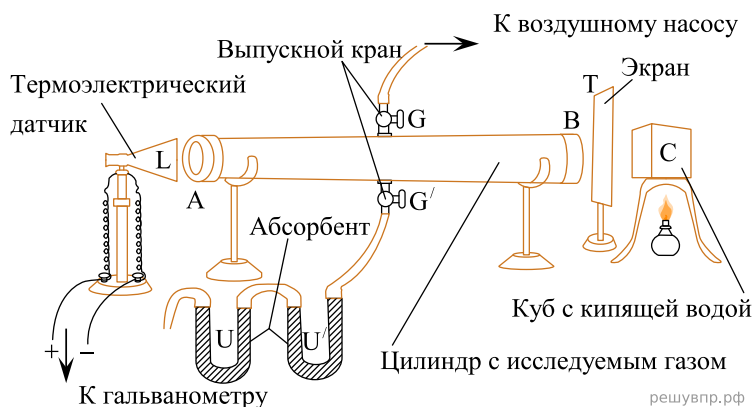


Рис. 2. Исследование прозрачности газов

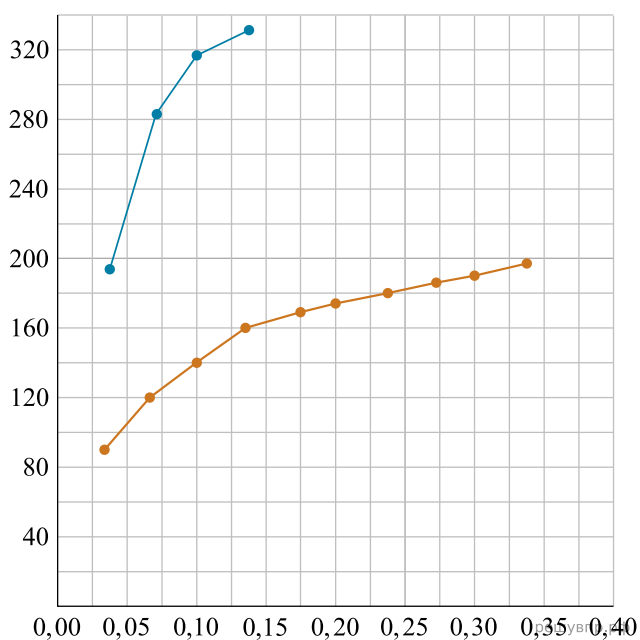


Рис. 3.

Сильное поглощение тепловых лучей характерно и для ряда других газов. Так, непрозрачность паров воды и углекислого газа в атмосфере для инфракрасных лучей играет существенную роль в парниковом эффекте, наблюдаемом в XXI в.

2. Вставьте в предложение пропущенные слова, используя информацию из текста.

При понижении температуры излучателя инфракрасных волн доля излучения, поглощённая стеклом, _____. Стекло _____ для излучения меди, нагретой до 100 °С.

В ответ запишите слова (сочетания слов) по порядку, без дополнительных символов.

Цвет предметов

Вопрос о причине различной окраски тел занимал ум человека уже давно. Большое значение в понимании этого вопроса имели работы Ньютона (начавшиеся около 1666 г.) по разложению белого света в спектр (см. рис.).

Свет от фонаря освещает узкое прямоугольное отверстие S (щель). При помощи линзы L изображение щели получается на экране MN в виде узкого белого прямоугольника S' . Поместив на пути лучей призму P , обнаружим, что изображение щели сместится и превратится в окрашенную полосу, переходы цветов в которой от красного к фиолетовому подобны наблюдаемым в радуге. Это радужное изображение Ньютон назвал спектром.

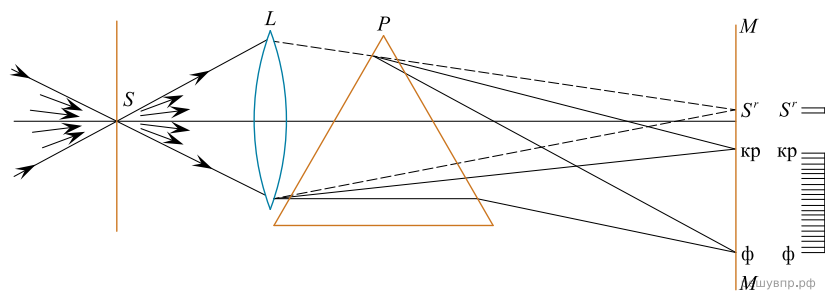


Рис. Наблюдение дисперсии света

В таблице приведены в качестве примера значения показателя преломления в зависимости от длины волны для двух сортов стекла и воды.

Длина волны, нм (цвет)	Показатель преломления		
	Стекло, тяжёлый флинт	Стекло, лёгкий крон	Вода
656,3 (красный)	1,6444	1,5145	1,3311
589,3 (жёлтый)	1,6499	1,5170	1,3330
486,1 (голубой)	1,6657	1,5230	1,3371
404,7 (фиолетовый)	1,6852	1,5318	1,3428

Цвет окружающих нас предметов может быть различным благодаря тому, что световые волны разной длины в луче белого цвета рассеиваются, поглощаются и пропускаются предметами по-разному. Доля светового потока, участвующая в каждом из этих процессов, определяется с помощью соответствующих коэффициентов: отражения ρ , пропускания τ и поглощения α .

Если, например, у какого-либо тела для красного света коэффициент пропускания велик, коэффициент отражения мал, а для зелёного — наоборот, то это тело будет казаться красным в проходящем свете и зелёным в отражённом. Такими свойствами обладает, например, хлорофилл — вещество, содержащееся в листьях растений и обуславливающее их цвет. Раствор (вытяжка) хлорофилла в спирту оказывается на просвет красным, а на отражение — зелёным.

Для очень белого непрозрачного тела коэффициент отражения близок к единице для всех длин волн, а коэффициенты поглощения и пропускания очень малы. Прозрачное стекло имеет малые коэффициенты отражения и поглощения, а коэффициент пропускания близкий к единице для всех длин волн.

Различие в значениях коэффициентов α , τ и ρ и их зависимость от цвета (длины волны) падающего света обуславливают чрезвычайное разнообразие в цветах и оттенках различных тел.

3. Вставьте в предложение пропущенные слова, используя информацию из текста.

На рисунке показана схема опыта по разложению света в спектр с помощью
опыту в наибольшей степени преломляются
Согласно

В ответ запишите слова (сочетания слов) по порядку, без дополнительных символов.

Рентгеновское излучение

Рентгеновские лучи (первоначально названные X-лучами) были открыты в 1895 г. немецким физиком Рентгеном. Открыв X-лучи, Рентген тщательными опытами выяснил условия их образования. Он установил, что эти лучи возникают при торможении на веществе быстро летящих электронов. Исходя из этого обстоятельства, Рентген сконструировал и построил специальную трубку, удобную для получения рентгеновских лучей (см. рис. 1).




Рис. 1. Рентгеновская трубка

Рентгеновские трубки представляют собой стеклянные вакуумные баллоны с расположенными внутри электродами. Разность потенциалов на электродах нужна очень высокая — до сотен киловольт. На вольфрамовом катоде, подогреваемом током, происходит термоэлектронная эмиссия, то есть с него испускаются электроны, которые, ускоряясь электрическим полем, «бомбардируют» анод. В результате взаимодействия быстрых электронов с атомами анода рождаются фотоны рентгеновского диапазона.

Было установлено, что чем меньше длина волны рентгеновского излучения, тем больше проникающая способность лучей. Рентген назвал лучи с высокой проникающей способностью (слабо поглощающиеся веществом) жёсткими.

Различают тормозное и характеристическое рентгеновское излучение. Электроны могут, встречаясь с анодом, тормозиться, то есть терять энергию в электрических полях его атомов. Эта энергия излучается в виде рентгеновских фотонов. Такое излучение называется тормозным. Тормозное излучение содержит фотоны разных частот и, соответственно, длин волн. Поэтому спектр его является сплошным (непрерывным). Энергия излучаемого фотона не может превышать кинетическую энергию порождающего его электрона. Кинетическая же энергия электронов зависит от приложенной к электродам разности потенциалов.

Механизм получения характеристического излучения следующий. Быстрый электрон может проникнуть внутрь атома и выбить какой-либо электрон с одной из нижних орбиталей, то есть передать ему энергию, достаточную для преодоления потенциального барьера. Образовавшаяся в результате выбивания вакансии заполняется электроном с одного из вышележащих уровней. Занимая более низкий уровень, электрон излучает излишек энергии в форме кванта характеристического рентгеновского излучения. Наиболее быстрые электроны могут выбить электрон с K-оболочки, менее быстрые — с L-оболочки и т. д. (рис. 2а).

Электронная структура атома — это дискретный набор возможных энергетических состояний электронов. Поэтому рентгеновские фотоны, излучаемые в процессе замещения электронных вакансий, также могут иметь только строго определённые значения энергии, соответствующие разности уровней. Вследствие этого характеристическое рентгеновское излучение обладает спектром не сплошного, а линейчатого вида. Такой спектр позволяет характеризовать вещество анода — отсюда и название этих лучей. На рис. 2б показан характеристический спектр на фоне тормозного спектра.

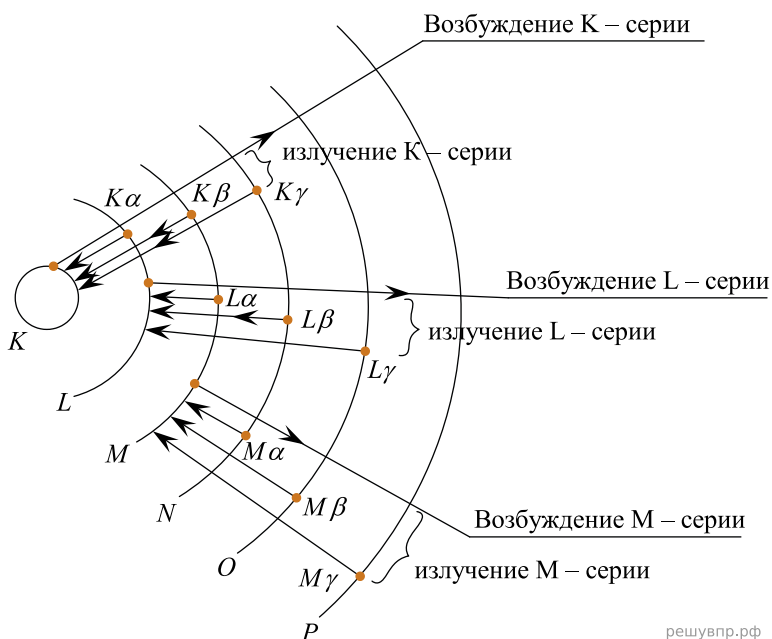


Рис. 2а. Схема образования линий характеристического спектра

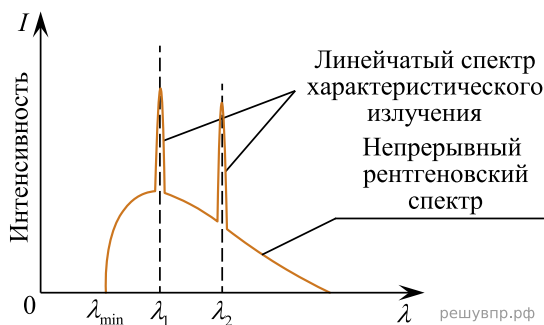


Рис. 2б. Рентгеновский спектр (тормозной и характеристический)

4. Вставьте в предложение пропущенные слова (сочетания слов), используя информацию из текста.

В рентгеновской трубке при нагревании катода испускаются _____, которые ускоряются в _____ до высоких энергий.

В ответ запишите слова (сочетания слов) по порядку, без дополнительных символов.

Исследование поглощения инфракрасных лучей в XIX веке (по Дж. Тиндалю)

Открытие термо-ЭДС, возникающей при нагреве контакта двух разнородных металлов (термопары), сделало возможным исследование свойств инфракрасных лучей. Термоэлектрический датчик (последовательно соединённые термопары) при нагревании инфракрасными лучами вырабатывает ЭДС, измеряемую гальванометром. По отклонению стрелки судят о степени нагрева.

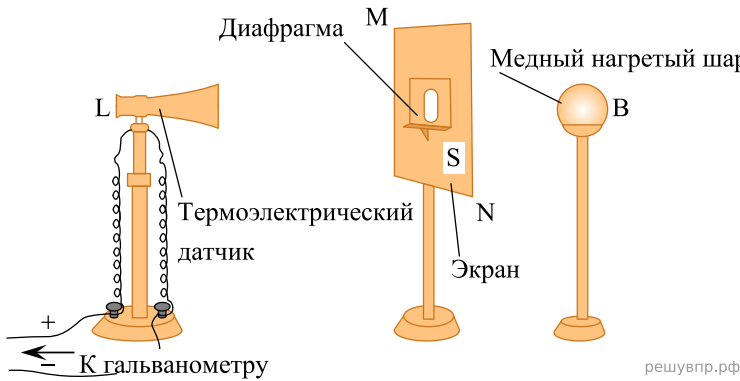


Рис. 1. Исследование прозрачности твёрдых тел

На рис. 1 показана схема исследования прозрачности твёрдых тел в XIX в. для инфракрасных лучей. Предполагалось, что воздух для этих лучей прозрачен. В качестве источника инфракрасных лучей использовались нагретое тело, пламя лампы и т. п. Известно, что, по закону Вина, с понижением температуры тела максимум излучения смещается в сторону длинных волн:

$$\lambda_{max} = \frac{b}{T},$$

где $b = 2897 \text{ мкм} \cdot \text{К}$, T — температура тела в кельвинах.

В опыте исследуемая пластина толщиной l перекрывала отверстие диафрагмы.

Таблица. Пропускание лучей твёрдыми телами

Температура	Нагретая медь		
	920 °С	400 °С	100 °С
Исследуемый материал, $l = 2.54 \text{ мм}$	%		
Каменная соль	92,3		
Стекло	39	6	0
Горный хрусталь	38	6	3
Лёд	6	0	0
Воздух	100		

Оказалось, что прозрачные для видимого света лёд и стекло непрозрачны для тепловых лучей (см. таблицу). Горный хрусталь пропускает 6% излучения нагретой до 400 °С меди и 3% излучения нагретой до 100 °С меди. Таким образом, прозрачность хрустала зависит от температуры излучающего тела. Длинноволновое излучение не проходит через стекло и лёд, а каменная соль для этого излучения прозрачна. По этой причине при изучении прозрачности газов кристаллы каменной соли использовались в качестве «окон» в цилиндре с исследуемым газом (рис. 2, торцы цилиндра AB). Поглощающая способность газа зависит от давления. В опыте в предварительно откачанный цилиндр AB (см. рис. 2) будем впускать этилен через кран G' . Уберём экран T , закрывающий зачернённый сажей куб C , наполненный кипящей водой. Результаты опытов по изучению поглощающей способности этилена и диэтилового эфира приведены на рис. 3.

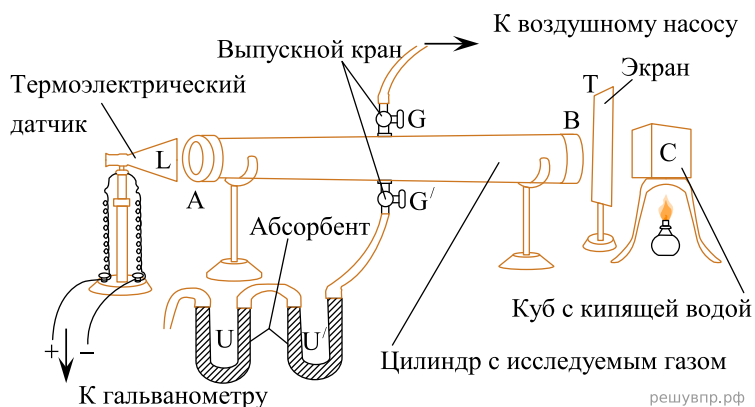


Рис. 2. Исследование прозрачности газов

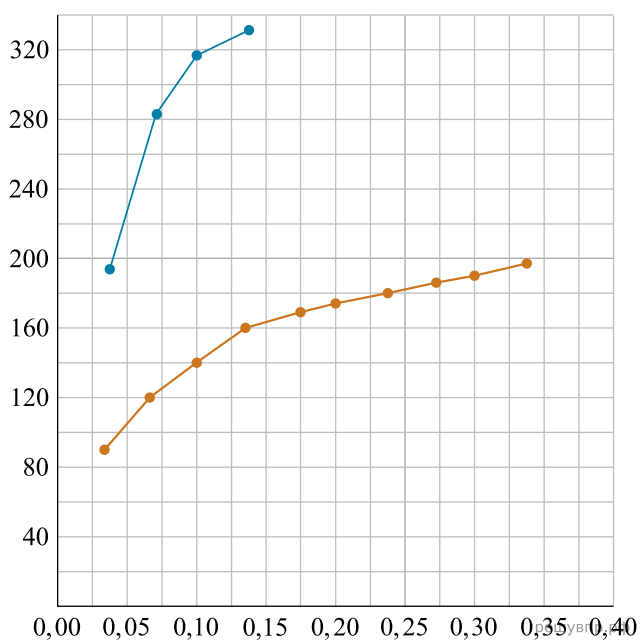


Рис. 3.

Сильное поглощение тепловых лучей характерно и для ряда других газов. Так, непрозрачность паров воды и углекислого газа в атмосфере для инфракрасных лучей играет существенную роль в парниковом эффекте, наблюдаемом в XXI в.

5. Вставьте в предложение пропущенные слова (сочетания слов), используя информацию из текста.

При повышении температуры излучателя инфракрасных волн доля излучения, поглощённая горным хрусталём, _____. Лёд _____ для теплового излучения меди, нагретой до 100 °С.

В ответ запишите слова (сочетания слов) по порядку, без дополнительных символов.

Цвет предметов

Вопрос о причине различной окраски тел занимал ум человека уже давно. Большое значение в понимании этого вопроса имели работы Ньютона (начавшиеся около 1666 г.) по разложению белого света в спектр (см. рис.).

Свет от фонаря освещает узкое прямоугольное отверстие S (щель). При помощи линзы L изображение щели получается на экране MN в виде узкого белого прямоугольника S' . Поместив на пути лучей призму P , обнаружим, что изображение щели сместится и превратится в окрашенную полосу, переходы цветов в которой от красного к фиолетовому подобны наблюдаемым в радуге. Это радужное изображение Ньютон назвал спектром.

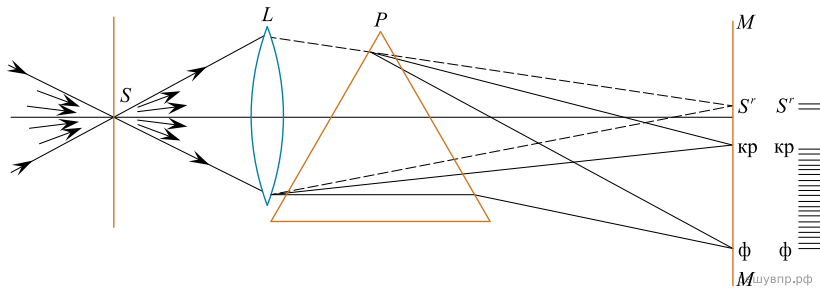


Рис. Наблюдение дисперсии света

В таблице приведены в качестве примера значения показателя преломления в зависимости от длины волны для двух сортов стекла и воды.

Длина волны, нм (цвет)	Показатель преломления		
	Стекло, тяжёлый флинт	Стекло, лёгкий крон	Вода
656,3 (красный)	1,6444	1,5145	1,3311
589,3 (жёлтый)	1,6499	1,5170	1,3330
486,1 (голубой)	1,6657	1,5230	1,3371
404,7 (фиолетовый)	1,6852	1,5318	1,3428

Цвет окружающих нас предметов может быть различным благодаря тому, что световые волны разной длины в луче белого цвета рассеиваются, поглощаются и пропускаются предметами по-разному. Доля светового потока, участвующая в каждом из этих процессов, определяется с помощью соответствующих коэффициентов: отражения ρ , пропускания τ и поглощения α .

Если, например, у какого-либо тела для красного света коэффициент пропускания велик, коэффициент отражения мал, а для зелёного — наоборот, то это тело будет казаться красным в проходящем свете и зелёным в отражённом. Такими свойствами обладает, например, хлорофилл — вещество, содержащееся в листьях растений и обуславливающее их цвет. Раствор (вытяжка) хлорофилла в спирту оказывается на просвет красным, а на отражение — зелёным.

Для очень белого непрозрачного тела коэффициент отражения близок к единице для всех длин волн, а коэффициенты поглощения и пропускания очень малы. Прозрачное стекло имеет малые коэффициенты отражения и поглощения, а коэффициент пропускания близкий к единице для всех длин волн.

Различие в значениях коэффициентов α , τ и ρ и их зависимость от цвета (длины волны) падающего света обуславливают чрезвычайное разнообразие в цветах и оттенках различных тел.

6. Вставьте в предложение пропущенные слова (сочетания слов), используя информацию из текста.

На рисунке показана схема опыта по разложению белого света в спектр. Лучи света собирались на экране с помощью _____ . Согласно опыту в наименьшей степени преломляются _____ .

В ответ запишите слова (сочетания слов) по порядку, без дополнительных символов.

Рассеяние света

В природе мы постоянно наблюдаем явление, связанное с изменением спектрального состава солнечного света. Свет, доходящий до нас от участков небесного свода в безоблачную погоду, характеризуется довольно насыщенным голубым или даже синим оттенком. Несомненно, что свет неба есть солнечный свет, рассеиваемый в толще воздушной атмосферы и поэтому доходящий до наблюдателя со всех сторон, даже по направлениям, далёким от направления на Солнце (см. рис.).

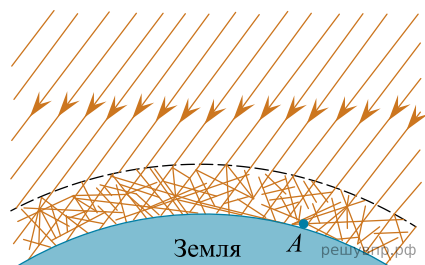


Рисунок. Происхождение цвета неба (свет Солнца, рассеянный атмосферой) (До поверхности Земли (например, точки А) доходит как прямой свет Солнца, так и свет, рассеянный в толще атмосферы. Цвет этого рассеянного света и называется цветом неба.)

Теоретическое исследование и опыты показали, что такое рассеяние происходит благодаря молекулярному строению воздуха; даже вполне свободный от пыли воздух рассеивает солнечный свет. Спектр рассеянного воздуха заметно отличается от спектра прямого солнечного света: в солнечном свете максимум энергии приходится на жёлто-зелёную часть спектра, а в свете неба максимум передвинут к голубой части.

Причина лежит в том, что короткие световые волны рассеиваются значительно сильнее длинных.

По расчётам английского физика Дж. Стретта (лорда Рэля, 1842–1919), подтверждённым измерениями, интенсивность рассеянного света обратно пропорциональна четвёртой степени длины волны, если рассеивающие частицы малы по сравнению с длиной волны света. Поэтому белый свет Солнца при рассеянии превращается в голубой цвет неба. Так обстоит дело при рассеянии в чистом воздухе (в горах, над океаном).

Закон рассеяния Рэля выполняется и в том случае, когда в воздухе имеются очень мелкие (значительно меньшие длины волны) частички пыли или капельки влаги (туман). Рассеяние, вызываемое ими, также идёт по закону, близкому к закону Рэля, т. е. по преимуществу рассеиваются короткие волны.

Наличие же в воздухе сравнительно крупных по сравнению с длиной световой волны частичек пыли (в городах) добавляет к рассеянному голубому свету свет всех длин волн, отражённый частичками пыли, т. е. почти неизменённый свет Солнца. Благодаря этой примеси цвет неба становится в этих условиях более белесоватым.

Преимущественное рассеяние коротких волн приводит к тому, что доходящий до поверхности Земли прямой свет Солнца в полдень оказывается более жёлтым, чем при наблюдении с большой высоты. На пути через толщу воздуха свет Солнца частично рассеивается в стороны, причём сильнее рассеиваются короткие волны, так что достигший Земли свет становится относительно богаче излучением длинноволновой части спектра. Благодаря этому Солнце и Луна на восходе (или закате) имеют красноватый оттенок.

7. Вставьте в предложение пропущенные слова (сочетания слов), используя информацию из текста.

Цвет неба объясняется тем, что рассеяние света в атмосфере зависит от _____, причём в наибольшей степени _____ в чистом воздухе _____, причём в наибольшей степени _____ части солнечного спектра.

В ответ запишите слова (сочетания слов) по порядку, без дополнительных символов.

Фотолюминесценция

Световая волна, падающая на тело, частично отражается от него, частично проходит насквозь, частично поглощается. Часто энергия поглощённой световой волны целиком переходит во внутреннюю энергию вещества, что проявляется в нагревании тела. Однако известная часть этой поглощённой энергии может вызвать и другие явления: фотоэлектрический эффект, фотохимические превращения, фотолюминесценцию.

Так, некоторые тела при освещении не только отражают часть падающего на них света, но и сами начинают светиться. Такое свечение, или фотолюминесценция, отличается важной особенностью: свет люминесценции имеет иной спектральный состав, чем свет, вызвавший свечение (см. рис.). Наблюдения показывают, что свет люминесценции характеризуется большей длиной волны, чем возбуждающий свет. Это правило носит название правила Стокса в честь английского физика Георга Стокса (1819—1903). Вещества, обладающие ярко выраженной способностью люминесцировать, называются люминофорами.

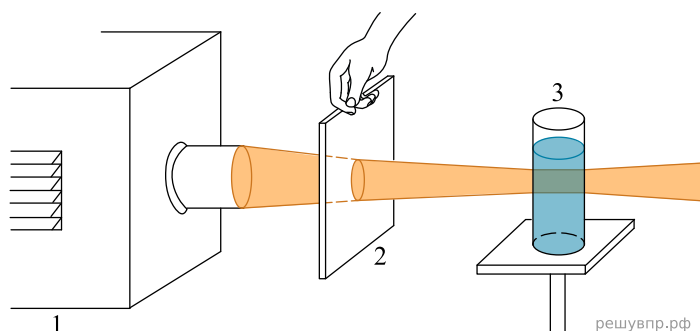


Рисунок 1. Опыт по фотолюминесценции: 1 – источник света (фонарь); 2 – светофильтр; 3 – сосуд с веществом (Пропустим, например, свет от фонаря через фиолетовое стекло, задерживающее практически все голубые и более длинные волны. Если пучок фиолетового света направить на колбочку, в которой содержится раствор флюоресцеина, то освещённая жидкость начинает ярко люминесцировать зелёно-жёлтым светом)

Свечение вещества (люминесценция) связано с переходами атомов и молекул с высших энергетических уровней на низшие уровни. Люминесценции должно предшествовать возбуждение атомов и молекул вещества. При фотолюминесценции возбуждение происходит под действием видимого или ультрафиолетового излучения.

Некоторые тела сохраняют способность светиться некоторое время после того, как освещение их прекратилось. Такое послесвечение может иметь различную длительность. В некоторых объектах оно продолжается очень малое время (десятитысячные доли секунды и меньше), и для его наблюдения требуются особые приспособления. В других оно тянется много секунд и даже минут (часов), так что его наблюдение не представляет никаких трудностей. Принято называть свечение, прекращающееся вместе с освещением, флюоресценцией, а свечение, имеющее заметную длительность, — фосфоресценцией.

Люминесценция нашла применение при изготовлении ламп дневного света. Возникающий в лампе, заполненной парами ртути, газовый разряд вызывает электролюминесценцию паров ртути. В спектре излучения ртути имеется ультрафиолетовое излучение с длиной волны 0,257 мкм, которое, в свою очередь, возбуждает фотолюминесценцию люминофора, нанесённого на внутреннюю сторону стенок лампы и дающего видимый свет. Изменяя состав люминофора, можно изготавливать лампы с требуемым спектром фотолюминесценции. При смещении максимума излучения

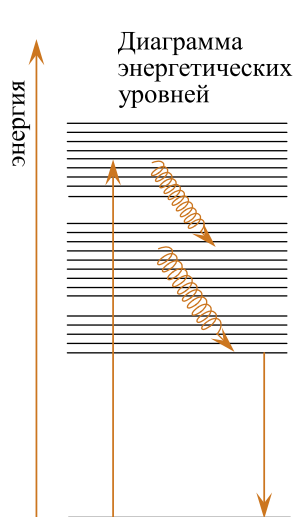


Рис. 2 решувпр.рф

в длинноволновую область видимого спектра получают тепло-белый (желтоватый) свет, в коротковолновую — холодно-белый (голубоватый) свет.

8. Вставьте в предложение пропущенные слова (сочетания слов), используя информацию из текста.

В люминесцентной лампе происходит двойное преобразование энергии: электрическая энергия превращается в энергию _____ излучения паров ртути, которая, в свою очередь, превращается в энергию _____ люминофора.

Рассеяние света

В природе мы постоянно наблюдаем явление, связанное с изменением спектрального состава солнечного света. Свет, доходящий до нас от участков небесного свода в безоблачную погоду, характеризуется довольно насыщенным голубым или даже синим оттенком. Несомненно, что свет неба есть солнечный свет, рассеиваемый в толще воздушной атмосферы и поэтому доходящий до наблюдателя со всех сторон, даже по направлениям, далёким от направления на Солнце (см. рис.).

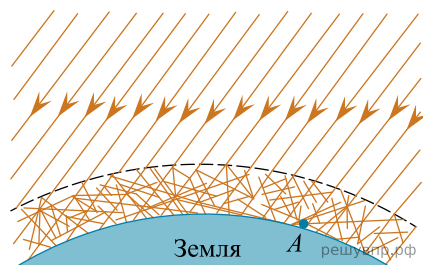


Рисунок. Происхождение цвета неба (свет Солнца, рассеянный атмосферой) (До поверхности Земли (например, точки А) доходит как прямой свет Солнца, так и свет, рассеянный в толще атмосферы. Цвет этого рассеянного света и называется цветом неба.)

Теоретическое исследование и опыты показали, что такое рассеяние происходит благодаря молекулярному строению воздуха; даже вполне свободный от пыли воздух рассеивает солнечный свет. Спектр рассеянного воздуха заметно отличается от спектра прямого солнечного света: в солнечном свете максимум энергии приходится на жёлто-зелёную часть спектра, а в свете неба максимум передвинут к голубой части.

Причина лежит в том, что короткие световые волны рассеиваются значительно сильнее длинных.

По расчётам английского физика Дж. Стретта (лорда Рэля, 1842–1919), подтверждённым измерениями, интенсивность рассеянного света обратно пропорциональна четвёртой степени длины волны, если рассеивающие частицы малы по сравнению с длиной волны света. Поэтому белый свет Солнца при рассеянии превращается в голубой цвет неба. Так обстоит дело при рассеянии в чистом воздухе (в горах, над океаном).

Закон рассеяния Рэля выполняется и в том случае, когда в воздухе имеются очень мелкие (значительно меньшие длины волны) частички пыли или капельки влаги (туман). Рассеяние, вызываемое ими, также идёт по закону, близкому к закону Рэля, т. е. по преимуществу рассеиваются короткие волны.

Наличие же в воздухе сравнительно крупных по сравнению с длиной световой волны частичек пыли (в городах) добавляет к рассеянному голубому свету свет всех длин волн, отражённый частичками пыли, т. е. почти неизменённый свет Солнца. Благодаря этой примеси цвет неба становится в этих условиях более белесоватым.

Преимущественное рассеяние коротких волн приводит к тому, что доходящий до поверхности Земли прямой свет Солнца в полдень оказывается более жёлтым, чем при наблюдении с большой высоты. На пути через толщу воздуха свет Солнца частично рассеивается в стороны, причём сильнее рассеиваются короткие волны, так что достигший Земли свет становится относительно богаче излучением длинноволновой части спектра. Благодаря этому Солнце и Луна на восходе (или закате) имеют красноватый оттенок.

9. Вставьте в предложение пропущенные слова (сочетания слов), используя информацию из текста.

Если в воздухе содержится большое количество крупных частиц пыли, то голубое небо приобретает _____ оттенок, так как на больших высотах _____ практически _____ одинаково _____ рассеиваются _____ солнечного спектра.

В ответ запишите слова (сочетания слов) по порядку, без дополнительных символов.

Прочитайте текст и выполните задания 16, 17 и 18.

Открытие поглощения инфракрасных лучей (по Дж. Тиндалю)

Открытие термо-ЭДС, возникающей при нагреве контакта двух различных металлов (термопары), сделало возможным исследование инфракрасных (тепловых) лучей. Термодатчик (последовательно соединённые термопары) при нагревании тепловыми лучами вырабатывает ЭДС, измеряемую гальванометром. По отклонению стрелки судят о степени нагрева.

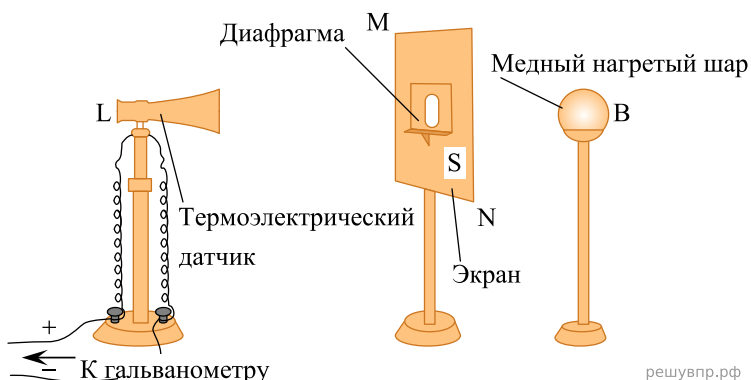


Рис. 1. Исследование прозрачности твёрдых тел

На рис. 1 показана схема исследования прозрачности твёрдых тел для тепловых лучей. Предполагалось, что комнатный воздух них прозрачен. В качестве источника излучения использовались нагретое тело, пламя и т. п.

По закону Вина с понижением температуры тела максимум излучения смещается в сторону длинных волн: $\lambda_{max} = \frac{b}{T}$, где $b = 2897 \text{ мкм} \times \text{К}$, T — температура в кельвинах. В опыте исследуемая пластина (рис. 1) перекрывала отверстие диафрагмы. Оказалось, что прозрачные для видимого света оконное стекло непрозрачно для тепловых лучей. Пластина горного хрусталя пропускает: 38% излучения от пламени ($T \approx 1200 \text{ К}$), 6% — от меди, нагретой до $400 \text{ }^\circ\text{C}$ и 3% — меди, нагретой до $100 \text{ }^\circ\text{C}$. Пластина каменной соли (NaCl) пропускает более 92% лучей, испускаемых и пламенем, и нагретой медью (от $100 \text{ }^\circ\text{C}$ до $400 \text{ }^\circ\text{C}$).

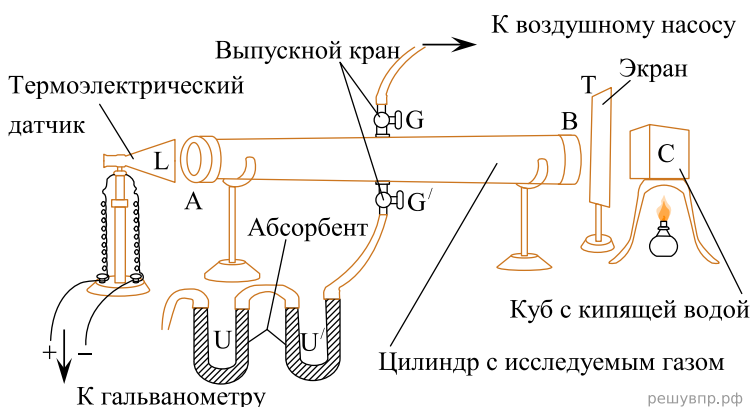


Рис. 2. Исследование прозрачности газов

При изучении прозрачности газов, например, CO_2 , в цилиндре AB в качестве «окон» использовались кристаллы NaCl (рис. 2, торцы цилиндра). В откачанный цилиндр через кран G' впускали предварительно осушенные (прошедшие через трубки $U-U'$) газы. После этого убирали экран T , закрывающий зачернённый сажей куб с кипящей водой C . По отклонению стрелки гальванометра судили о степени поглощения лучей.

Непрозрачность паров воды для инфракрасных лучей играет существенную роль в природе. Первые наблюдения были проделаны Р. Стрейчи в марте 1850 г. Он измерял падение температуры воздуха (Δt) от восхода до захода Солнца на открытом воздухе при абсолютно ясном небе с пом

ошью термометра, фиксируя в журнале наблюдений парциальное давление водяных паров (абсолютную влажность).

Понижение температуры воздуха после захода Солнца при различной абсолютной влажности воздуха									
$p_{\text{вод. пар}}$, мм рт. ст.	22,6	21,6	20,4	19,0	18,0	16,7	15,4	14,1	11,0
Δt , °C	3,3	3,9	4,6	4,7	5,7	7,0	6,7	7,3	9,2

Было показано, что поглощение инфракрасных лучей водяным паром препятствует остыванию атмосферного воздуха.

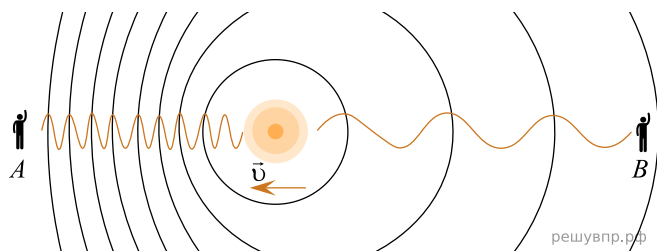
Изучение причин возникновения парникового эффекта, а именно поглощение тепловых лучей водяным паром и углекислым газом, было начато физиками в середине XIX века.

10. Вставьте в предложение пропущенные слова (словосочетания), используя информацию из текста. В опыте Дж. Тиндаля предполагалось, что воздух _____ для тепловых лучей. Источником инфракрасного излучения в опыте служили _____.

Эффект Доплера

На практике Вы наверняка наблюдали изменение звука, происходящее при перемещении источника звука относительно слушателя. Так, высота звукового сигнала поезда зависит от того, приближается или удаляется поезд от наблюдателя. Эффект изменения длины и частоты звуковых волн впервые в 1842 г. описал К. Доплер, вследствие чего этот эффект и был назван в честь этого австрийского физика.

Эффект Доплера наблюдается и для световых волн. На скорость света (c) в вакууме не влияют ни скорость источника света, ни скорость наблюдателя. Постоянство скорости света в вакууме имеет огромное значение для физики и астрономии. Однако частота и длина световой волны меняются с изменением скорости источника относительно наблюдателя.



Если источник света начинает двигаться со скоростью v , то длина волны меняется. Для наблюдателя А, к которому источник света приближается, длина световой волны уменьшается. Для наблюдателя В, от которого источник света удаляется, длина световой волны увеличивается (см. рис.). Так как в видимой части электромагнитного излучения наименьшим длинам волн соответствует фиолетовый свет, а наибольшим — красный, то говорят, что в случае приближающегося источника света наблюдается смещение длины волны в фиолетовую сторону спектра, а в случае удаляющегося источника света — в красную сторону спектра.

Относительное изменение длины световой волны зависит от скорости источника относительно наблюдателя (по лучу зрения) и определяется формулой Доплера:

$$\frac{\lambda - \lambda_0}{\lambda_0} = \pm \frac{v}{c},$$

где знак «плюс» соответствует случаю удаляющегося источника, а знак «минус» — случаю приближающегося источника.

Эффект Доплера лежит в основе радиолокационных лазерных методов, при помощи которых на Земле измеряются скорости самых разных объектов (самолётов, автомобилей и проч.). Его активно используют при изучении различных явлений Вселенной. Эффект Доплера для звуковых волн широко используется в разных областях медицины, например во многих современных приборах, с помощью которых осуществляют ультразвуковую диагностику сердца и сосудов.

11. Меняется ли, и если меняется, то как скорость световой волны для наблюдателя (В) при движении источника света (см. рис.)?

Прочитайте текст и выполните задания 16, 17 и 18.

Погрешности оптических систем

Рассмотрим некоторые погрешности (абберации), которые дают оптические приборы, основанные на использовании линз: сферические и хроматические абберации.

На практике часто приходится применять собирающие линзы большого диаметра, позволяющие собрать широкие световые потоки. Однако в этом случае не удаётся получить резкое изображение источника (рис. 1). Как бы мы ни перемещали экран (Э), на нём получается довольно расплывчатое изображение. И только ограничив пучки, падающие на линзу, с помощью диафрагмы Д (непрозрачного экрана с отверстием), можно получить достаточно резкое изображение источника (рис. 2). Погрешность, связанная с тем, что линза большого диаметра даёт изображение точечного источника S не в виде точки, а в виде расплывчатого светлого пятна, называется сферической абберацией.

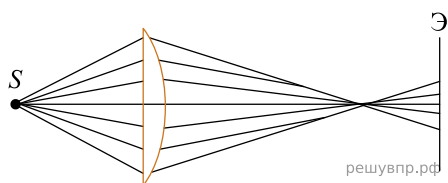


Рис. 1

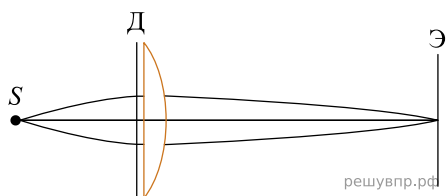


Рис. 2

Хроматическая абберация связана с тем, что показатель преломления световых лучей в стекле зависит от длины волны: красные лучи преломляются слабее, чем зелёные, зелёные – слабее, чем фиолетовые. Из-за этого изображение в линзе получается окрашенным.

Рассмотрим, как можно убрать хроматическую абберацию в оптических телескопах. Телескоп состоит из двух основных частей – объектива и окуляра. В первых телескопах (т. н. рефракторных) в качестве объектива использовалась собирающая линза. В фокусе объектива формируется действительное изображение весьма удалённого источника света (например, звезды). Чтобы разглядеть полученное с помощью объектива изображение, используется окуляр. В качестве окуляра может использоваться собирающая линза, действующая как лупа. На рис. 3 представлен ход лучей в телескопе И. Кеплера (1611 г.).

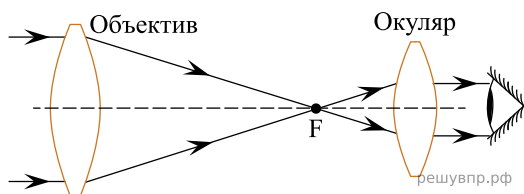
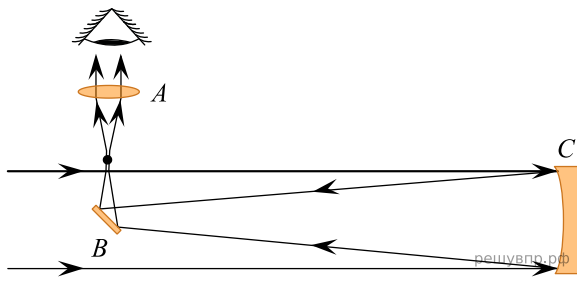


Рис. 3. Зрительная труба И. Кеплера. В её оптической схеме две собирающие линзы.

С помощью телескопа Кеплера яркие звёзды наблюдатель увидит как синие-зелёные точки (к синие-зелёной части спектра человеческий глаз наиболее чувствителен ночью), окружённые красной и синей каймой.

Чтобы устранить искажения изображения, связанные с хроматической абберацией, И. Ньютон в 1668 году предложил новую модель телескопа – рефлекторный телескоп, в котором вместо собирающей линзы использовалось вогнутое зеркало (рис. 4).



4. Оптическая схема телескопа И. Ньютона (A - собирающая линза, B - плоское зеркало, C - вогнутое зеркало).

12. Что использовалось в качестве окуляра в оптической схеме телескопа Ньютона (рис. 4)?


Прочитайте текст и выполните задания 16, 17 и 18.

Естественный спутник Земли

Луна — естественный спутник Земли, тёмный и холодный, и с Земли видна только та часть лунной поверхности, которая освещена Солнцем и обращена к Земле. Вследствие этого вид Луны на небе меняется, происходит смена лунных фаз. Луна проходит следующие фазы освещения:

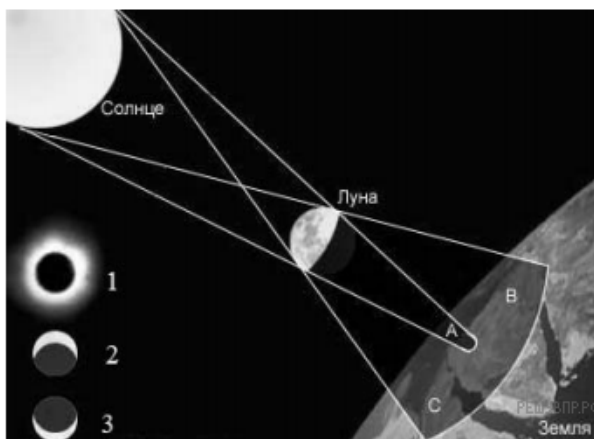
- новолуние — состояние, когда Луна невидна;
- первая четверть — состояние, когда первый раз после новолуния освещена половина обращённой к Земле поверхности Луны;
- полнолуние — состояние, когда освещена вся обращённая к Земле поверхность Луны;
- последняя четверть — состояние, когда освещена другая половина обращённой к Земле поверхности Луны.

На рисунке представлен календарь наблюдения фаз Луны в течение января 2015 г.



Влияние Луны на Землю заметно в целом ряде природных явлений. Самое впечатляющее из них — это солнечное затмение, когда Луна закрывает диск Солнца. Сейчас достаточно трудно представить ту бурю эмоций, которую вызывал этот феномен в древности. Результатом действия сил гравитационного притяжения Луны являются приливы и отливы. Причём приливы возникают не только на Земле. Наша планета таким же образом воздействует на спутник.

13. Какой из видов 1–3 солнечного затмения соответствует виду из зоны В?



Прочитайте текст и выполните задания 16, 17 и 18.

Открытие поглощения инфракрасных лучей (по Дж. Тиндалю)

Открытие термо-ЭДС, возникающей при нагреве контакта двух разнородных металлов (термопары), сделало возможным исследование инфракрасных (тепловых) лучей. Термодатчик (последовательно соединённые термопары) при нагревании тепловыми лучами вырабатывает ЭДС, измеряемую гальванометром. По отклонению стрелки судят о степени нагрева.

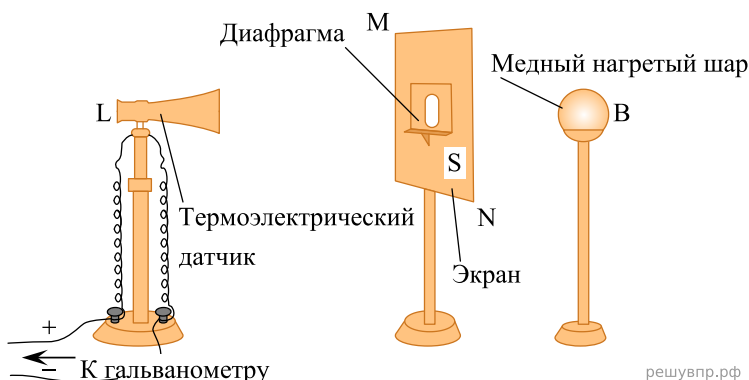


Рис. 1. Исследование прозрачности твёрдых тел

На рис. 1 показана схема исследования прозрачности твёрдых тел для тепловых лучей. Предполагалось, что комнатный воздух них прозрачен. В качестве источника излучения использовались нагретое тело, пламя и т. п. По закону Вина с понижением температуры тела максимум излучения смещается в сторону длинных волн: $\lambda_{max} = \frac{b}{T}$, где $b = 2897 \text{ мкм} \times \text{К}$, T — температура в кельвинах. В опыте исследуемая пластина (рис. 1) перекрывала отверстие диафрагмы. Оказалось, что прозрачные для видимого света оконное стекло непрозрачно для тепловых лучей. Пластина горного хрусталя пропускает: 38% излучения от пламени ($T \approx 1200 \text{ К}$), 6% — от меди, нагретой до $400 \text{ }^\circ\text{C}$ и 3% — меди, нагретой до $100 \text{ }^\circ\text{C}$. Пластина каменной соли (NaCl) пропускает более 92% лучей, испускаемых и пламенем, и нагретой медью (от $100 \text{ }^\circ\text{C}$ до $400 \text{ }^\circ\text{C}$).

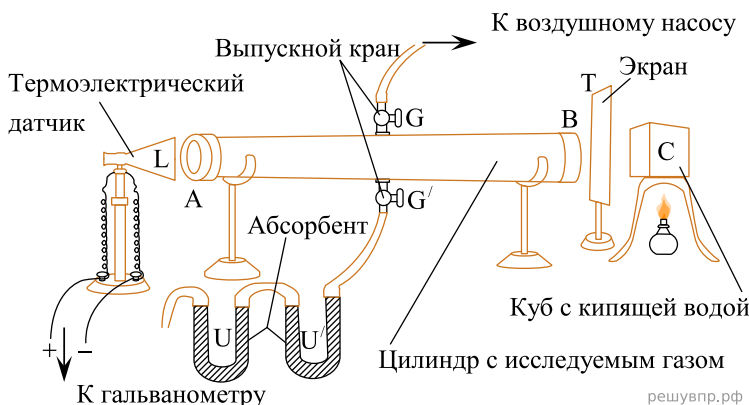


Рис. 2. Исследование прозрачности газов

При изучении прозрачности газов, например, CO_2 , в цилиндре AB в качестве «окон» использовались кристаллы NaCl (рис. 2, торцы цилиндра). В откачанный цилиндр через кран G' впускали предварительно осушенные (прошедшие через трубки U-U') газы. После этого убирали экран T, закрывающий зачернённый сажей куб с кипящей водой C. По отклонению стрелки гальванометра судили о степени поглощения лучей.

Непрозрачность паров воды для инфракрасных лучей играет существенную роль в природе. Первые наблюдения были проделаны Р. Стрейчи в марте 1850 г. Он измерял падение температуры воздуха (Δt) от восхода до захода Солнца на открытом воздухе при абсолютно ясном небе с пом

остью термометра, фиксируя в журнале наблюдений парциальное давление водяных паров (абсолютную влажность).

Понижение температуры воздуха после захода Солнца при различной абсолютной влажности воздуха									
$p_{\text{вод. пар}}$, мм рт. ст.	22,6	21,6	20,4	19,0	18,0	16,7	15,4	14,1	11,0
Δt , °C	3,3	3,9	4,6	4,7	5,7	7,0	6,7	7,3	9,2

Было показано, что поглощение инфракрасных лучей водяным паром препятствует остыванию атмосферного воздуха.

Изучение причин возникновения парникового эффекта, а именно поглощение тепловых лучей водяным паром и углекислым газом, было начато физиками в середине XIX века.

14. Вставьте в предложение пропущенные слова (словосочетания), используя информацию из текста.

В опыте Дж. Тиндаля предполагалось, что воздух для тепловых лучей. Источником инфракрасного излучения в опыте служили .

Прочитайте текст и выполните задания 16, 17 и 18.

Рентгеновские лучи

Рентгеновское излучение — это электромагнитные волны, энергия фотонов которых лежит на шкале электромагнитных волн между ультрафиолетовым излучением и гамма-излучением.

Рентгеновские лучи возникают всегда, когда движущиеся с высокой скоростью электроны тормозятся материалом анода (например, в газоразрядной трубке низкого давления). Часть энергии, не рассеивающаяся в форме тепла, превращается в энергию электромагнитных волн (рентгеновские лучи).

Есть два типа рентгеновского излучения: тормозное и характеристическое. Тормозное рентгеновское излучение не является монохроматическим, оно характеризуется разнообразием длин волн, которое может быть представлено сплошным (непрерывным) спектром.

Характеристическое рентгеновское излучение имеет не сплошной, а линейчатый спектр. Этот тип излучения возникает, когда быстрый электрон, достигая анода, выбивает электроны из внутренних электронных оболочек атомов анода. Пустые места в оболочках занимают другими электронами атома. При этом испускается рентгеновское излучение с характерным для материала анода спектром энергий.

Монохроматическое рентгеновское излучение, длины волн которого сопоставимы с размерами атомов, широко используется для исследования структуры веществ. В основе данного метода лежит явление дифракции рентгеновских лучей на трёхмерной кристаллической решётке. Дифракция рентгеновских лучей на монокристаллах была открыта в 1912 г. М. Лауэ. Направив узкий пучок рентгеновских лучей на неподвижный кристалл, он наблюдал на помещённой за кристаллом пластинке дифракционную картину, которая состояла из большого количества расположенных в определённом порядке пятен.

Дифракционная картина, получаемая от поликристаллического материала (например, металлов), представляет собой набор чётко обозначенных колец. От аморфных материалов (или жидкостей) получают дифракционную картину с размытыми кольцами.

15. Какой из типов рентгеновского излучения имеет непрерывный спектр?

Прочитайте текст и выполните задания 16, 17 и 18.

Инфразрение

У холоднокровных животных возможно существование инфраглаза. Тепловые «глаза» змеи, получившие название «лицевые ямки», представляют собой специализированные органы, чувствительные к инфракрасному излучению внешних объектов. Лицевые ямки, как правило, расположены впереди и чуть ниже обоих глаз змеи, а их число зависит от вида змеи и может достигать 26 (у питона).

Наиболее изучены лицевые ямки гремучей змеи. Чувствительность лицевой ямки такова, что она может обнаружить человеческую руку или живую мышь на расстоянии 0,5 м. Змея производит бросок тогда, когда температура чувствительной мембраны лицевой ямки повышается всего лишь на 0,003 °С.

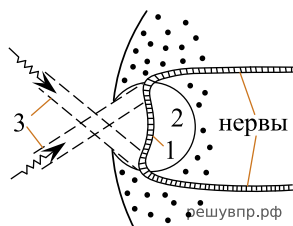


Рис. Разрез «лицевой ямки» змеи: 1 - термочувствительная мембрана; 2 - воздушная полость; 3 - инфракрасное излучение.

Глаз-термометр, в отличие от глаза, реагирующего на видимый свет, не содержит линзы, и своей конструкцией напоминает камеру-обскуру (см. рис.). Диаметр термочувствительной мембраны, как правило, более чем в 2 раза превышает диаметр внешнего отверстия лицевой ямки. Это обеспечивает частичную фокусировку изображения на поверхности мембраны. Однако, каждая такая ямка обладает лишь примитивной фокусирующей способностью: она даёт возможность различать два отдельных инфракрасных источника только тогда, когда угол между направлениями на них составляет 30–60°. В то же время использование змеей одновременно нескольких таких ямок, имеющих различные перекрывающиеся друг друга зоны обзора, позволяет значительно лучше локализовать направление на цель после обработки мозгом информации от всех терморцепторов.

16. Что змея ночью обнаружит на более удалённом расстоянии: спящую кошку или чайник с кипятком?


Прочитайте текст и выполните задания 16, 17 и 18.

Фазы Луны

Луна — естественный спутник Земли, тёмный и холодный, и с Земли видна только та часть лунной поверхности, которая освещена Солнцем и обращена к Земле. Вследствие этого вид Луны на небе меняется, происходит смена лунных фаз. Луна проходит следующие фазы освещения:

- новолуние — состояние, когда Луна невидна;
- первая четверть — состояние, когда первый раз после новолуния освещена половина обращённой к Земле поверхности Луны;
- полнолуние — состояние, когда освещена вся обращённая к Земле поверхность Луны;
- последняя четверть — состояние, когда освещена другая половина обращённой к Земле поверхности Луны.

На рисунке представлен календарь наблюдения фаз Луны в течение августа 2015 г.



На Луне много метеоритных, или ударно-взрывных, кратеров. Это наиболее распространённые формы рельефа на многих планетах и их спутниках в Солнечной системе.

Когда метеорит с космической скоростью врывается в твёрдую поверхность планеты, происходит мощный тепловой взрыв, и на его месте за считанные секунды формируется особое геологическое образование — ударный метеоритный кратер.

Луна не имеет атмосферы, вся её поверхность изрыта кратерами от падения метеорных тел. Большинство же метеорных тел, падающих на Землю, не долетают до её поверхности, нагреваясь и сгорая в атмосфере.



17. Какого числа наблюдалось новолуние в августе 2015 г.?

Прочитайте текст и выполните задания 16, 17 и 18.


Естественный спутник Земли

Луна — естественный спутник Земли, тёмный и холодный, и с Земли видна только та часть лунной поверхности, которая освещена Солнцем и обращена к Земле. Вследствие этого вид Луны на небе меняется, происходит смена лунных фаз.

Луна проходит следующие фазы освещения:

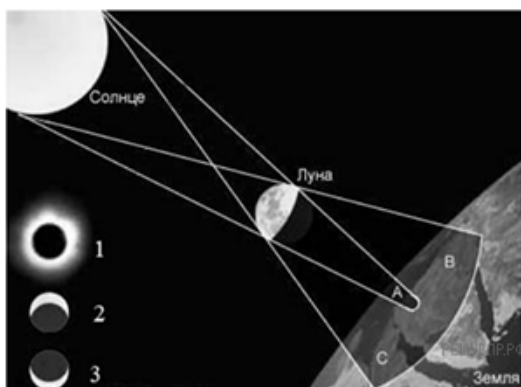
- новолуние — состояние, когда Луна невидна;
- первая четверть — состояние, когда первый раз после новолуния освещена половина обращённой к Земле поверхности Луны;
- полнолуние — состояние, когда освещена вся обращённая к Земле поверхность Луны;
- последняя четверть — состояние, когда освещена другая половина обращённой к Земле поверхности Луны.

На рисунке представлен календарь наблюдения фаз Луны в течение января 2015 г.



Влияние Луны на Землю заметно в целом ряде природных явлений. Самое впечатляющее из них — это солнечное затмение, когда Луна закрывает диск Солнца. Сейчас достаточно трудно представить ту бурю эмоций, которую вызывал этот феномен в древности. Результатом действия сил гравитационного притяжения Луны являются приливы и отливы. Причём приливы возникают не только на Земле. Наша планета таким же образом воздействует на спутник.

18. Какой из видов 1–3 солнечного затмения соответствует виду из зоны В?



Прочитайте текст и выполните задания 16, 17 и 18.

Звёзды

Звёзды представляют собой массивные светящиеся газовые (плазменные) шары. Образуются звёзды из газовой пылевой среды (главным образом из водорода и гелия) в результате гравитационного сжатия. Звезда сжимается до тех пор, пока в её ядре не начнутся ядерные реакции. Температура вещества в недрах звёзд измеряется миллионами кельвин, а на их поверхности — тысячами кельвин.

Химический состав атмосферы звезды можно изучить с помощью спектрографа: свет, излучаемый звездой, пропускается через узкое отверстие, позади которого распологается призма. Преломлённый призмой свет направляется на экран или специальную фотоплёнку. Полученное изображение представляет собой непрерывный спектр, на фоне которого имеются чёрные линии поглощения. По набору линий поглощения можно определить химический состав атмосферы звезды.

При увеличении температуры фотосферы — излучающего слоя атмосферы звезды — максимум интенсивности излучения в непрерывном спектре звезды смещается в сторону коротких длин волн. Звёзды с самой высокой температурой фотосферы имеют голубой цвет. Согласно закону Вина длина волны λ_m , на которую приходится максимум энергии излучения абсолютно чёрного тела (звезды), обратно пропорциональна абсолютной температуре T :

$$\lambda_m = b / T, \text{ где постоянная Вина } b = 2,898 \cdot 10^{-3} \text{ м} \cdot \text{К}.$$

В таблице представлена спектральная классификация звёзд, разработанная в Гарвардской обсерватории в 1890–1924 гг. Классификация строится на относительной интенсивности линий поглощения, а также на цвете звёзд. Солнце относится к спектральному классу G и имеет температуру фотосферы около 6000 К.

Класс	<i>O</i>	<i>B</i>	<i>A</i>	<i>F</i>	<i>G</i>	<i>K</i>	<i>M</i>
Температура фотосферы (кельвин)	60 000–30 000	30 000–10 000	10 000–7 500	7 500–6 500	6 000–5 000	5 000–3 500	2 500–2 000
Цвет	Голубой	Белый, голубой	Белый	Белый, жёлтый	Жёлтый	Жёлтый, оранжевый	Жёлтый, оранжевый
Солнечных масс, в среднем	60	18	3,1	1,7	1,1	0,8	0,3
Солнечных радиусов, в среднем	15	7	2,1	1,3	1,1	0,9	0,4
Солнечных светимостей, в среднем	1 400 000	20 000	80	6	1,2	0,4	0,04
Линии водорода	Слабые	Средние	Сильные	Средние	Слабые	Очень слабые	Очень слабые

19. Звёзды какого класса из представленных в таблице имеют наибольшую светимость?

Инфразрение

У холоднокровных животных возможно существование инфраглаза. Тепловые «глаза» змеи, получившие название «лицевые ямки», представляют собой специализированные органы, чувствительные к инфракрасному излучению внешних объектов. Лицевые ямки, как правило, расположены впереди и чуть ниже обоих глаз змеи, а их число зависит от вида змеи и может достигать 26 (у питона).

Наиболее изучены лицевые ямки гремучей змеи. Чувствительность лицевой ямки такова, что она может обнаружить человеческую руку или живую мышь на расстоянии 0,5 м. Змея производит бросок тогда, когда температура чувствительной мембраны лицевой ямки повышается всего лишь на 0,003 °С.

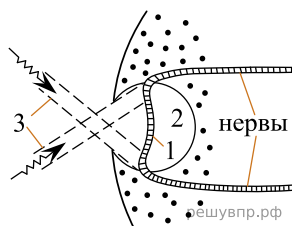


Рис. Разрез «лицевой ямки» змеи: 1 — термочувствительная мембрана; 2 — воздушная полость (3 — инфракрасное излучение)

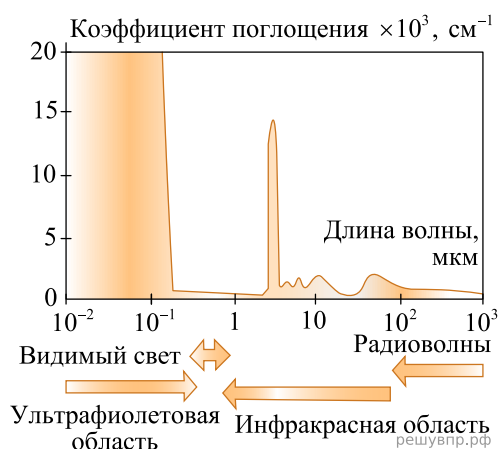
Глаз-термометр, в отличие от глаза, реагирующего на видимый свет, не содержит линзы, и своей конструкцией напоминает камеру-обскуру (см. рис.). Диаметр термочувствительной мембраны, как правило, более чем в 2 раза превышает диаметр внешнего отверстия лицевой ямки. Это обеспечивает частичную фокусировку изображения на поверхности мембраны. Однако, каждая такая ямка обладает лишь примитивной фокусирующей способностью: она даёт возможность различать два отдельных инфракрасных источника только тогда, когда угол между направлениями на них составляет 30–60°. В то же время использование змеей одновременно нескольких таких ямок, имеющих различные перекрывающиеся друг друга зоны обзора, позволяет значительно лучше локализовать направление на цель после обработки мозгом информации от всех терморецепторов.

20. Вставьте в предложение пропущенные слова (словосочетания), используя информацию из текста.

«Инфраглаз» змеи частично фокусирует за счёт того, что диаметр внешнего отверстия лицевой ямки диаметра термочувствительной мембраны.

Почему лёд прозрачный, а снег белый

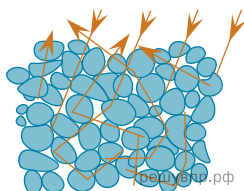
Человеческий глаз способен остро реагировать на электромагнитные волны видимой части спектра. На рисунке показаны результаты измерений коэффициента поглощения льдом электромагнитных излучений различных диапазонов.



В видимой области спектра коэффициент поглощения льда практически равен нулю, поэтому лёд прозрачен. Однако в инфракрасной и ультрафиолетовой областях коэффициент поглощения принимает очень большие значения.

Если бы лёд не был прозрачным, то и снег не выглядел бы белым. Рассматривая снег под микроскопом, можно убедиться, что он состоит из частиц прозрачного льда. Тем не менее комки снега имеют белый цвет.

Белизна снега объясняется тем, что свет, в котором представлены все длины волн, испытав многократное отражение и преломление на поверхностях снежинок, несмотря на сложный путь, почти не поглощается и вновь выходит на поверхность.



Если бы частицы, из которых состоит снег, хоть немного поглощали свет, снег не выглядел бы белым.

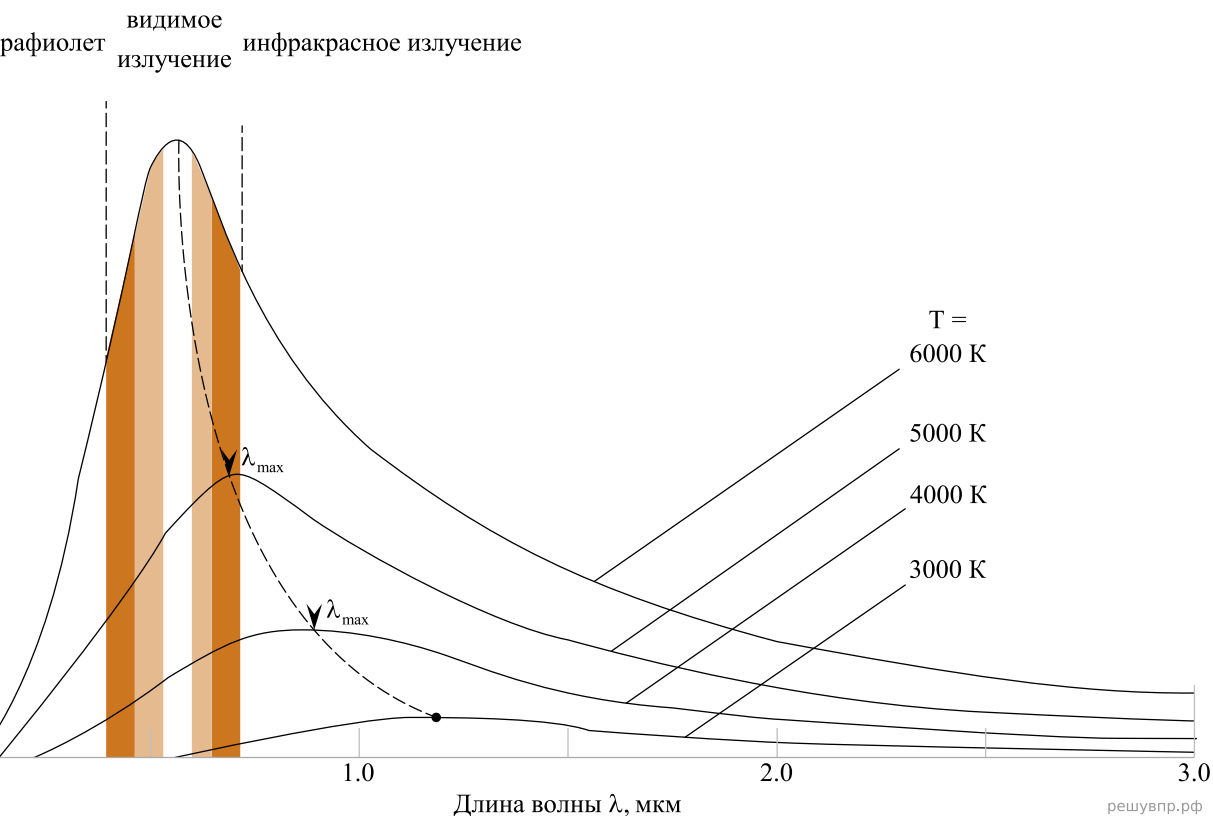
Вспомним, что эталоном абсолютно чёрного тела служит платиновая чернь, которая представляет собой порошок платины. Дело в том, что платиновая чернь обладает чрезвычайно высоким коэффициентом поглощения света на всех длинах волн. В результате из-за сильного поглощения падающий свет больше не возвращается на поверхность.

21. Поскольку в ультрафиолетовом диапазоне _____ льда принимает очень большие значения, то в этом диапазоне лёд будет казаться _____.

22. Почему платиновая чернь служит эталоном абсолютно чёрного тела?

Цветовое зрение

Любой объект излучает электромагнитные волны в очень широком диапазоне частот. При этом интенсивность излучения напрямую зависит от температуры объекта (рис. 1).



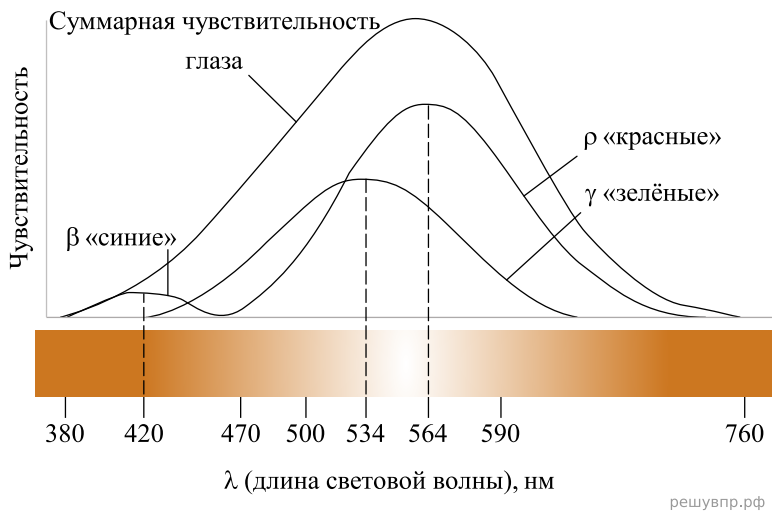
интенсивность излучения абсолютно чёрного тела. (Абсолютно чёрное тело обладает свойством полностью поглощать падающую на его поверхность лучистую энергию любого спектрального состава.)

Максимум излучения Солнца, поверхность которого имеет температуру около 6000 K , приходится на диапазон длин волн, которые в процессе эволюции определили цветовое зрение человека.

Среди органов чувств глаз занимает особое место. На долю зрения приходится до 80% информации, воспринимаемой организмом извне. Человек с помощью зрения воспринимает размеры предметов, их форму, расположение в пространстве, движение, а, главное, цвет.

Приемниками светового излучения человека служат колбочки (фоторецепторы трёх типов) и палочки (фоторецепторы одного типа).

Колбочки, в зависимости от их спектральной чувствительности, подразделяются на три типа и обозначаются греческими буквами ρ , γ и β . Максимумы спектральной чувствительности этих типов колбочек находятся в трёх разных спектральных участках: красном, зелёном и синем (рис. 2).



решувпр.рф

Рис. 2

Спектры поглощения показывают вероятность поглощения фотона для данной длины волны. Спектры поглощения перекрываются, а это означает, что зрительная система в состоянии различить частоту волны, сравнивая количества поглощения энергии разных видов колбочек.

Палочки, расположенные по периферии сетчатки, играют основную роль в создании ахроматических зрительных образов. Палочки обладают высокой чувствительностью к свету, воспринимают волны с малой амплитудой, но не умеют различать их длину, то есть результат восприятия волн разной длины у всех палочек одинаков.

23. На какой диапазон электромагнитного излучения (рентгеновское, ультрафиолетовое видимое или инфракрасное излучение) приходится максимум излучения тела, нагретого до температуры 4500 К?

Цвет предметов

Вопрос о причине различной окраски тел занимал ум человека уже давно. Большое значение в понимании этого вопроса имели работы Ньютона (начавшиеся около 1666 г.) по разложению белого света в спектр (см. рис.).

Свет от фонаря освещает узкое прямоугольное отверстие S (щель). При помощи линзы L изображение щели получается на экране MN в виде узкого белого прямоугольника S' . Поместив на пути лучей призму P , обнаружим, что изображение щели сместится и превратится в окрашенную полосу, переходы цветов в которой от красного к фиолетовому подобны наблюдаемым в радуге. Это радужное изображение Ньютон назвал спектром.

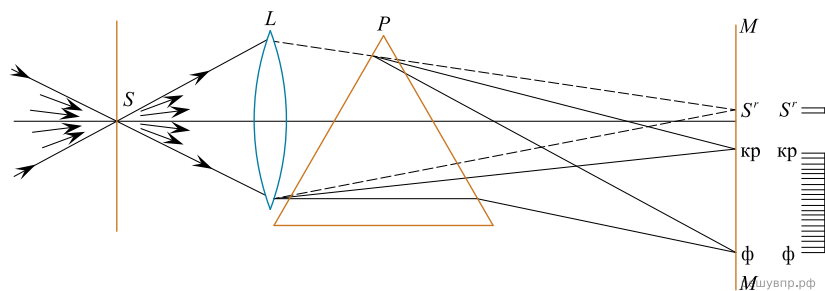


Рис. Наблюдение дисперсии света

В таблице приведены в качестве примера значения показателя преломления в зависимости от длины волны для двух сортов стекла и воды.

Длина волны, нм (цвет)	Показатель преломления		
	Стекло, тяжёлый флинт	Стекло, лёгкий крон	Вода
656,3 (красный)	1,6444	1,5145	1,3311
589,3 (жёлтый)	1,6499	1,5170	1,3330
486,1 (голубой)	1,6657	1,5230	1,3371
404,7 (фиолетовый)	1,6852	1,5318	1,3428

Цвет окружающих нас предметов может быть различным благодаря тому, что световые волны разной длины в луче белого цвета рассеиваются, поглощаются и пропускаются предметами по-разному. Доля светового потока, участвующая в каждом из этих процессов, определяется с помощью соответствующих коэффициентов: отражения ρ , пропускания τ и поглощения α .

Если, например, у какого-либо тела для красного света коэффициент пропускания велик, коэффициент отражения мал, а для зелёного — наоборот, то это тело будет казаться красным в проходящем свете и зелёным в отражённом. Такими свойствами обладает, например, хлорофилл — вещество, содержащееся в листьях растений и обуславливающее их цвет. Раствор (вытяжка) хлорофилла в спирту оказывается на просвет красным, а на отражение — зелёным.

Для очень белого непрозрачного тела коэффициент отражения близок к единице для всех длин волн, а коэффициенты поглощения и пропускания очень малы. Прозрачное стекло имеет малые коэффициенты отражения и поглощения, а коэффициент пропускания близкий к единице для всех длин волн.

Различие в значениях коэффициентов α , τ и ρ и их зависимость от цвета (длины волны) падающего света обуславливают чрезвычайное разнообразие в цветах и оттенках различных тел.

24. Вставьте в предложение пропущенные слова, используя информацию из текста.

Явление _____ света объясняется различием в скорости распространения в среде световых лучей с различными длинами волн. Для видимого

диапазона чем больше длина волны света, тем _____ показатель преломления.

Космические обсерватории

С поверхности Земли человек издавна наблюдает космические объекты в видимой части спектра электромагнитного излучения (диапазон видимого света включает волны с длиной примерно от 380 нм до 760 нм).

При этом большой объём информации о небесных телах не доходит до поверхности Земли, т. к. большая часть инфракрасного и ультрафиолетового диапазона, а также рентгеновские и гамма-лучи космического происхождения недоступны для наблюдений с поверхности нашей планеты. Для изучения космических объектов в этих лучах необходимо вывести телескопы за пределы атмосферы. Результаты, полученные в космических обсерваториях, перевернули представление человека о Вселенной. Общее количество космических обсерваторий превышает уже несколько десятков.

Так, с помощью наблюдений в инфракрасном (ИК) диапазоне были открыты тысячи галактик с мощным инфракрасным излучением, в том числе такие, которые излучают в ИК-диапазоне больше энергии, чем во всех остальных частях спектра. Активно изучаются инфракрасные источники в газопылевых облаках. Интерес к газопылевым облакам связан с тем, что, согласно современным представлениям, в них рождаются и вспыхивают звёзды.

Ультрафиолетовый спектр разделяют на ультрафиолет-А (УФ-А) с длиной волны 315–400 нм, ультрафиолет-В (УФ-В) – 280–315 нм и ультрафиолет-С (УФ-С) – 100–280 нм. Практически весь УФ-С и приблизительно 90% УФ-В поглощаются озоновым слоем при прохождении лучей через земную атмосферу. УФ-А не задерживается озоновым слоем.

С помощью ультрафиолетовых обсерваторий изучались самые разные объекты: от комет и планет до удалённых галактик. В УФ-диапазоне исследуются звёзды, в том числе, с необычным химическим составом.

Гамма-лучи доносят до нас информацию о мощных космических процессах, связанных с экстремальными физическими условиями, в том числе и ядерных реакциях внутри звёзд. Детекторы рентгеновского излучения относительно легки в изготовлении и имеют небольшую массу. Рентгеновские телескопы устанавливались на многих орбитальных станциях и межпланетных космических кораблях. Оказалось, что рентгеновское излучение во Вселенной явление такое же обычное, как и излучение оптического диапазона. Большое внимание уделяется изучению рентгеновского излучения нейтронных звёзд и чёрных дыр, активных ядер галактик, горячего газа в скоплении галактик.

25. Какую часть ультрафиолетового спектра можно использовать для наземных обсерваторий?

Прочитайте текст и выполните задания 16, 17 и 18.

Атмосферная рефракция

Прежде чем луч света от удалённого космического объекта (например, звезды) попадёт в глаз наблюдателя, он должен пройти сквозь земную атмосферу. При этом световой луч подвергается процессам рефракции, поглощения и рассеяния. Рефракция света в атмосфере — оптическое явление, представляющее собой преломление световых лучей в атмосфере и проявляющееся в кажущемся смещении удалённых объектов (например, наблюдаемых на небе звёзд). По мере приближения светового луча от небесного тела к поверхности Земли плотность атмосферы растёт (рис. 1) и лучи преломляются всё сильнее. Процесс распространения светового луча через земную атмосферу можно смоделировать с помощью стопки прозрачных пластин, оптическая плотность которых изменяется по ходу распространения луча (рис. 2).

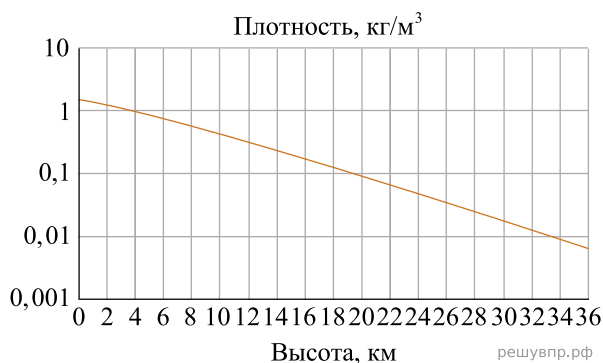


Рис. 1. Изменение плотности воздуха с высотой относительно уровня моря.

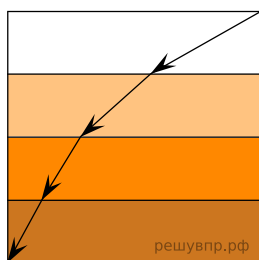


Рис. 2

Из-за рефракции наблюдатель видит объекты не в направлении их действительного положения, а вдоль касательной к траектории луча в точке наблюдения (рис. 3). Угол α между истинным и видимым направлениями на объект называется углом рефракции. Звёзды вблизи горизонта, свет которых должен пройти через самую большую толщину атмосферы, сильнее всего подвержены действию атмосферной рефракции (угол рефракции составляет порядка $1/6$ углового градуса). Показатель преломления воздуха различен для разных длин волн: для световых волн видимого диапазона он немного уменьшается с увеличением длины волны.

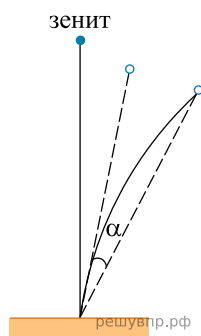


Рис. 3. Криволинейное распространение светового луча в атмосфере (сплошная линия) и кажущееся смещение объекта (пунктирная линия).

26. Изменение какой физической величины объясняет атмосферную рефракцию?

Рассеяние света

В природе мы постоянно наблюдаем явление, связанное с изменением спектрального состава солнечного света. Свет, доходящий до нас от участков небесного свода в безоблачную погоду, характеризуется довольно насыщенным голубым или даже синим оттенком. Несомненно, что свет неба есть солнечный свет, рассеиваемый в толще воздушной атмосферы и поэтому доходящий до наблюдателя со всех сторон, даже по направлениям, далёким от направления на Солнце (см. рис.).

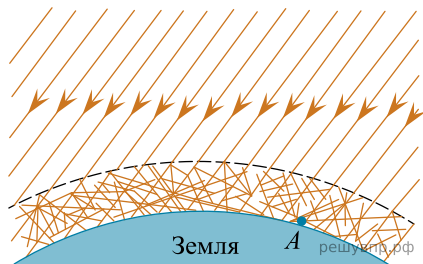


Рисунок. Происхождение цвета неба (свет Солнца, рассеянный атмосферой) (До поверхности Земли (например, точки А) доходит как прямой свет Солнца, так и свет, рассеянный в толще атмосферы. Цвет этого рассеянного света и называется цветом неба.)

Теоретическое исследование и опыты показали, что такое рассеяние происходит благодаря молекулярному строению воздуха; даже вполне свободный от пыли воздух рассеивает солнечный свет. Спектр рассеянного воздухом света заметно отличается от спектра прямого солнечного света: в солнечном свете максимум энергии приходится на жёлто-зелёную часть спектра, а в свете неба максимум передвинут к голубой части.

Причина лежит в том, что короткие световые волны рассеиваются значительно сильнее длинных.

По расчётам английского физика Дж. Стретта (лорда Рэля, 1842–1919), подтверждённым измерениями, интенсивность рассеянного света обратно пропорциональна четвёртой степени длины волны, если рассеивающие частицы малы по сравнению с длиной волны света. Поэтому белый свет Солнца при рассеянии превращается в голубой цвет неба. Так обстоит дело при рассеянии в чистом воздухе (в горах, над океаном).

Закон рассеяния Рэля выполняется и в том случае, когда в воздухе имеются очень мелкие (значительно меньшие длины волны) частички пыли или капельки влаги (туман). Рассеяние, вызываемое ими, также идёт по закону, близкому к закону Рэля, т. е. по преимуществу рассеиваются короткие волны.

Наличие же в воздухе сравнительно крупных по сравнению с длиной световой волны частичек пыли (в городах) добавляет к рассеянному голубому свету свет всех длин волн, отражённый частичками пыли, т. е. почти неизменённый свет Солнца. Благодаря этой примеси цвет неба становится в этих условиях более белесоватым.

Преимущественное рассеяние коротких волн приводит к тому, что доходящий до поверхности Земли прямой свет Солнца в полдень оказывается более жёлтым, чем при наблюдении с большой высоты. На пути через толщу воздуха свет Солнца частично рассеивается в стороны, причём сильнее рассеиваются короткие волны, так что достигший Земли свет становится относительно богаче излучением длинноволновой части спектра. Благодаря этому Солнце и Луна на восходе (или закате) имеют красноватый оттенок.

27. Вставьте в предложение пропущенные слова, используя информацию из текста.

Голубой цвет неба объясняется явлением _____ солнечного света в атмосфере Земли. В чистом воздухе лучи _____ части видимого спектра _____ в меньшей степени.

В ответ запишите слова (сочетания слов) по порядку, без дополнительных символов.